



Competizioni di Storia – livello scolastico

30 gennaio 2024

1ª categoria: VII (settima) classe

Codice di identificazione

--

(numero di cinque cifre e una parola)

Punteggio:

	67	%
--	-----------	---

Istruzioni per i partecipanti

- 1. Il test è composto da 25 domande e il tempo a disposizione per la soluzione è di 90 minuti.**
2. Prima di iniziare a risolvere il test devi compilare attentamente e in modo ortograficamente corretto il foglio per il codice di identificazione.
3. Dopo averlo compilato, riponi nella busta il foglio con il codice di identificazione.
4. Scrivi sulla prima pagina del presente test il codice di identificazione.
5. Leggi attentamente gli esercizi e la loro spiegazione.
6. Le risposte vanno scritte negli appositi spazi. Il test va risolto usando la penna a sfera blu oppure nera.
7. Il test va scritto in corsivo, non in stampatello. Scrivi in modo leggibile. Le risposte illeggibili avranno valenza pari a 0 punti.
8. I nomi propri e le denominazioni geografiche si scrivono nella forma originale come riportato nei manuali approvati dal Ministero (MZO) in vigore negli anni scolastici 2020/2021 e 2021/2022.
- 9. Usa il foglio per la brutta copia, poichè, una volta scritta la risposta non è consentito correggerla. Le risposte nel foglio della brutta copia non saranno valutate.**
10. Quando finisci di scrivere il test, consegnalo ad un membro della Commissione scolastica.
11. Dopo la pubblicazione della graduatoria provvisoria hai diritto a prendere in visione il test e, se necessario, presentare ricorso scritto.

Ti auguriamo tanto successo!

Membri della commissione scolastica:

1. _____ (presidente della Commissione scolastica)
2. _____ (membro della Commissione scolastica)
3. _____ (membro della Commissione scolastica)

1. Alcuni Stati europei possedevano colonie in America del Nord. Nel corso del XVIII secolo i coloni provenienti dall'Europa erano sempre più insoddisfatti del governo inglese. Cerchia la lettera davanti a tre affermazioni esatte che si riferiscono alle cause della Guerra d'indipendenza americana.

A) Il Congresso di Filadelfia del 1774 decide di sospendere il commercio con la madrepatria.

B) Nel porto di Boston, nel 1773, i manifestanti gettano in mare le casse contenute
il tè.

3

C) Le colonie chiedono al parlamento inglese maggiori diritti politici ed economici.

D) I coloni americani, essendo cittadini britannici, ritenevano di dover avere i propri rappresentanti nel parlamento britannico.

E) Il re Giorgio V non poteva più portare decisioni senza il parlamento.

2. Il salone di Marie Thérèse Geoffrin era uno dei luoghi d'incontro preferiti degli illuministi. Durante questi frequenti incontri gli illuministi leggevano le proprie opere e scambiavano idee e posizioni sulla società.

Osserva attentamente l'immagine.



Immagine 1. Salone di Marie Thérèse Geoffrin, 1755.

1

Rispondi alle seguenti due domande.

2.1. Scrivi il nome della città nella quale si trovava il Salone di Marie Thérèse Geoffrin.

Cerchia la lettera davanti a due affermazioni esatte.

2.2. Dove gli illuministi diffondevano maggiormente le proprie idee?

	2
--	---

A) *nei caffè* B) *nei fumetti* C) *nelle sinagoghe* D) *nei libri*

3. Nonostante molte riforme di Giuseppe II fossero state utili e progressiste, hanno causato insoddisfazione tra la popolazione, soprattutto tra il clero e la nobiltà della Monarchia. Pertanto, Giuseppe II, verso la fine del proprio governo, aveva abolito gran parte di queste riforme, mentre la maggior parte delle rimanenti era stata abolita dai suoi successori.

Il conte croato Adam Oršić, nelle sue memorie del 1812, ha descritto Giuseppe II:

Un uomo con grandi doti di vero sovrano, solamente frettoloso nell'agire, ma comunque gentile, e peraltro fiero del proprio potere. Pieno di capacità e instancabile, voleva riformare quasi tutto. Amava particolarmente l'esercito, la corte era sfarzosa, le finanze statali erano in buono stato, nei suoi Paesi sono stati aboliti molti pregiudizi e abusi che si erano intromessi nella fede, si chiusero anche molti monasteri di ordini che non contribuivano affatto al benessere dello Stato (...) Era stata introdotta la libertà di stampa, come anche la tolleranza religiosa (...) Giuseppe aveva visitato tutte le sue terre, per essere correttamente informato da tutti, ricordando le brave persone che si erano distinte per caratteristiche positive o negative.

	1
--	---

Analizza il testo e rispondi alle seguenti due domande.

3.1. Cosa ha abolito Giuseppe II nei propri Paesi, e cosa riteneva si fosse intromesso nella fede?

3.2. Quali riforme di Giuseppe II sono citate nella fonte storica?

	3
--	---

4. Il governatore delle colonie britanniche in America era nominato dalla Corona, e quindi sovrintendeva al commercio coloniale, approvava le leggi, e poteva anche respingere le decisioni del consiglio coloniale.

	2
--	---

Inserisci nella tabella 1 una funzione che manca in ogni colonna.

Consiglio coloniale	Assemblea coloniale
<ul style="list-style-type: none">• nominato dal governatore• _____• supremo organo giudiziario nella colonia	<ul style="list-style-type: none">• emana le leggi• eletta dai coloni• _____

Tabella 1. Assetto del governo nelle colonie britanniche in America

5. Il periodo dell'illuminismo viene spesso chiamato il secolo dei filosofi, ma è conosciuto anche come l'età della ragione. Gli illuministi erano convinti che le persone non dovevano seguire dei modelli religiosi o altri, ma comportarsi in armonia con la propria ragione. Osserva attentamente la cartina storica 1.



Cartina storica 1. I Paesi europei nel XVIII secolo

Oceano Atlantico – Mare del Nord – Mar Baltico – Mar Mediterraneo – Mar Tirreno – Mar Ionio – Mar Adriatico – Mar Egeo – Mar Nero

Londra – Cordova – Parigi – Roma – Napoli – Venezia – Zagabria – Ragusa – Belgrado –
Zagabria – Buda – Pest – Vienna – Praga – Berlino – Varsavia – Kiev – Atene – Costantinopoli

Inghilterra – Francia – Monarchia asburgica – Prussia – Impero ottomano

Rispondi alle seguenti due domande con l'aiuto della cartina storica 1.

5.1. Scrivi il nome dello Stato in cui è stata creata la *Cyclopædia o Dizionario universale delle scienze e delle arti*.

1

5.2. Scrivi il nome dello Stato nel quale l'illuminismo ha lasciato le radici più profonde.

1

6. Fino all'epoca dell'assolutismo illuminato, la Chiesa cattolica e altre comunità cristiane erano troppo influenti nella società. Durante il governo di Giuseppe II, autore della Patente di tolleranza religiosa, il potere della Chiesa viene limitato e quasi completamente sottomesso alla supervisione statale.

Rispondi alle seguenti tre domande.

6.1. A quali tre principali rami del cristianesimo Giuseppe II aveva concesso la parità di diritti?

1

6.2. Quanti anni sono trascorsi dall'emissione della Patente di tolleranza religiosa fino ad oggi?

1

6.3. Chi aveva diritto esclusivo di contrarre matrimonio prima dell'emanazione della Patente di tolleranza religiosa?

1

7. Jean Leon Gerome Ferris (8 agosto 1863 – 18 marzo 1930) era un pittore americano, famoso soprattutto per la sua serie di 78 scene di storia americana intitolate "The Pageant of a Nation". Si tratta della più grande serie di dipinti storici americani, opera di un unico artista. Nell'immagine seguente è raffigurata la stesura di uno dei più importanti documenti di storia americana e mondiale.


Immagine 2. J. L. G. Ferris, *Scrivendo la Dichiarazione di indipendenza*

Osserva l'immagine 2.

7.1. Scrivi nome e cognome:

della persona sotto il numero 1

3



della persona sotto il numero 3

7.2. Con quale numero è contrassegnato l'autore più illustre della Dichiarazione di indipendenza?

	1
--	---

8. Gli illuministi ritenevano che tutti gli uomini fossero uguali in base ai loro diritti naturali, al contrario della divisione in ordini sociali dell'epoca. Gli illuministi non condividevano tutti la stessa idea sulla questione del sistema politico-sociale. Alcuni erano più inclini alla repubblica, mentre gli altri alla monarchia costituzionale.

Cerchia la lettera davanti alla risposta esatta.

8.1. Quale illuminista francese propone la repubblica come sistema politico-sociale ideale?

A) *Voltaire*

B) *Jean-Jacques Rousseau*

	1
--	---

8.2. Quale illuminista francese propone la monarchia costituzionale come sistema politico-sociale ideale?

A) *Voltaire*

B) *Jean-Jacques Rousseau*

	1
--	---

9. Attraverso la sua lunga storia il popolo croato ha, indipendentemente o nel contesto di differenti comunità statali, plasmato gli elementi storici della propria identità nazionale, visibile anche negli stemmi dei territori croati dell'età moderna.




Illustrazione 1. Stemmi dei territori croati, dall'opera di Vitezović, 1701, Vienna



Illustrazione 2.
Stemma della Repubblica di
Croazia

9.1. Accanto alla lettera corrispondente allo stemma, scrivi il nome del territorio croato che questo stemma rappresenta.

	2
--	---

A _____

D _____

9.2. Confronta gli stemmi nell'illustrazione 1 con l'attuale stemma della Repubblica di Croazia nell'illustrazione 2. Scrivi il nome del territorio croato il cui stemma è mancante nell'illustrazione 1 e si trova sulla corona dello stemma nell'illustrazione 2.

	1
--	---

10. Anche se lo sviluppo della scienza è stato antecedente all'illuminismo, esso ha rappresentato comunque un ulteriore stimolo. L'influenza ostile che la Chiesa esercitava sulla scienza era notevolmente diminuita nel XVIII secolo.

Nella tabella sottostante, scrivi nella casella adatta il nome e cognome completo dello scienziato o della scoperta.

SCIENZIATO	SCOPERTA
	scoperto il pianeta Urano
	Comete
Isaac Newton	

Tabella 2. Scoperte nel campo delle scienze naturali verso la fine del XVII e nel corso del XVIII secolo.

11. Nel prossimo esercizio, cerchia la lettera davanti all'esatta sequenza storica della storia americana.

	1
--	---

A) i coloni si sono opposti alle nuove tasse decise dal parlamento di Londra → Battaglia di Lexington → proclamata la Dichiarazione di indipendenza → il generale Cornwallis si è arreso a Washington, presso Yorktown

B) i coloni si sono opposti alle nuove tasse decise dal parlamento di Londra → il generale Cornwallis si è arreso a Washington, presso Yorktown → proclamata la Dichiarazione di indipendenza → Battaglia di Lexington

C) Battaglia di Lexington → proclamata la Dichiarazione di indipendenza → il generale Cornwallis si è arreso a Washington, presso Yorktown → proclamata la Dichiarazione di indipendenza → i coloni si sono opposti alle nuove tasse decise dal parlamento di Londra

D) il generale Cornwallis si è arreso a Washington, presso Yorktown → i coloni si sono opposti alle nuove tasse decise dal parlamento di Londra → proclamata la Dichiarazione di indipendenza → Battaglia di Lexington

12. Il XVIII secolo è stato l'epoca dello splendore delle monarchie europee, ma per la maggior parte delle persone, anche di una continua vita in povertà e insicurezza. Nonostante ciò, sono comparsi studiosi che affermavano nuove idee su posizioni e possibilità migliori per le persone.

	4
--	---

Nei riquadri vuoti, sotto le quattro affermazioni, scrivi la lettera A se si tratta di una causa, o la lettera B se si tratta di una conseguenza dell'illuminismo.

apertura di scuole per bambini	società in cui la superstizione è dominante	popolo non illuminato	sviluppo dell'agricoltura
<input type="text"/>	<input type="text"/>	<input type="text"/>	<input type="text"/>
A. CAUSA		B. CONSEGUENZA	

13. Maria Teresa ha governato la Monarchia asburgica dal 1740 al 1780. Era una sovrana illuminata e ha attuato numerose riforme in tutti i campi della vita politica, economica e sociale.

Cerchia la lettera davanti a 3 affermazioni esatte, che si riferiscono alle riforme di Maria Teresa.

A) Ha completamente abolito i processi alle streghe, ponendoli sotto il controllo della Chiesa.

B) Nel 1777 ha introdotto l'obbligo scolastico generale nella parte ungherese della Monarchia.

	3
--	---

C) Nella Croazia del Bano gli Ungheresi cercavano di imporre l'ungherese come lingua nella scuola.

D) Nei livelli più alti di istruzione i figli dei nobili potevano scegliere di seguire lezioni in lingua tedesca.

E) I rapporti tra i servi della gleba e i feudatari erano regolati dall'Urbario croato e della Slavonia.

F) A causa dell'aumento delle gravi violazioni di legge, che avvenivano tra la popolazione, ha esteso l'applicazione della pena di morte.



14. Nel corso della storia, gli Stati Uniti d'America hanno modificato le proprie frontiere, espandendosi fino all'Oceano Pacifico. Il processo è stato molto lungo e si è concluso appena nel XX secolo.

Cartina storica 2. Espansione degli Stati Uniti d'America

Traduzione in lingua italiana dei termini della legenda

trinaest prvih država – i primi 13 stati

pričeno – annesso

kupljeno – acquistato

anektirano – annesso

1

Osserva la cartina storica 2. Rispondi alle tre domande seguenti.

14.1. Scrivi il nome dello Stato dal quale è stata acquistata l'Alaska.

14.2. Scrivi il nome della città nella quale ci fu la ribellione contro la legge britannica sul tè.

14.3. Scrivi il nome della prima colonia britannica che prese il nome dalla regina britannica Elisabetta I.

1

1

15. Nel XVIII secolo la Croazia era territorialmente divisa tra diversi padroni. La Croazia del Bano faceva parte della Monarchia asburgica, l'Istria era sotto il dominio di Venezia e della Monarchia asburgica, i Confini Militari erano governati dalla Corte viennese, mentre nell'estremo sud si trovava la Repubblica di Ragusa. La città di Fiume faceva parte del Litorale ungherese.

Cerchia la lettera davanti a tre affermazioni esatte.

A) La maggiore attività artigianale in Dalmazia era la produzione di liquore a Zara.

3

- B) Carlo IV ha fondato a Kraljevica il primo porto militare per la costruzione di navi militari.
- C) Il più famoso scrittore di tragedie, Tituš Brezovački, scriveva le sue opere in dialetto caicavo.
- D) Una parte della penisola istriana, conosciuta come Contea di Pisino con sede a Pisino, era inclusa nella Monarchia asburgica.
- E) Nel XVIII secolo l'epidemia di malaria fu un grande problema per l'Istria.

16. In Croazia, le idee illuministe hanno avuto un risultato relativamente scarso. Gli scrittori scrivevano principalmente opere di carattere morale e non si occupavano di criticare chi era al potere oppure la Chiesa.

Illustrazione 3.
Satir iliti divji čovik



Osserva l'illustrazione 3. Rispondi alle seguenti tre domande.

16.1. Scrivi il nome e il cognome dell'autore del libro *Satir iliti divji čovik*.

	1
--	---

16.2. In quale anno è stato pubblicato per la prima volta?

	1
--	---

16.3. Quale governo ha incolpato l'autore per l'arretratezza dei villaggi in Slavonia?

	1
--	---

17. Maria Teresa è conosciuta nella storia come la prima donna a salire sul trono ungaro-croato, ma anche come “Madre della Monarchia” per i suoi numerosi figli.

Osserva l'immagine 3.



	1
--	---

Immagine 3. Maria Teresa con i propri figli e figlie

Rispondi alla domanda.

17.1. Con quale numero è contrassegnato il coreggente e successore di Maria Teresa?

18. L'epoca dell'illuminismo è caratterizzata dallo sviluppo delle scienze naturali. La medicina rappresentava una parte importante delle scienze naturali, e alcuni sovrani hanno emanato leggi sulla salute pubblica per prevenire le epidemie.

Leggi attentamente la fonte storica sottostante sullo sviluppo della medica nelle memorie del nobile croato Adam Oršić, pubblicata nel capitolo *Memorie di Adam conte Oršić Slavetički dall'anno 1725 all'anno 1814*. nel libro *Il casato degli Oršić* (Zagabria: HIBZ, 1943), 94.

Nel corso della mia vita la medicina è stata testimone di grandi cambiamenti. Nel passato tutte le malattie erano osservate da un'unica posizione, cioè tentavano di eliminare la causa di tutti i mali con i procedimenti di fuoriuscita di sangue (...) Brown ha trovato un nuovo metodo, lui cercava solamente di rafforzare il corpo, solo in casi estremi praticava i salassi di sangue (...) E' stato scoperto il vaccino contro la varicella, che in alcuni ha avuto delle conseguenze positive, mentre negli altri negative; adesso è di nuovo completamente superato. Negli ultimi anni è stato scoperto e somministrato, con un buon successo, il vaccino contro il vaiolo. Benché il Consiglio regio ungherese lo consiglia, le regioni sono anche in questo, come in tutto il resto, negligenti, perciò numerosi bambini continuano a morire

Rispondi alle seguenti tre domande:

	1
--	---

18.1. In che modo si cercava nel passato di eliminare la causa di tutti i mali?

18.2. Chi ha scoperto il nuovo metodo con il quale si cerca solamente di rafforzare il corpo?


	1
--	---

18.3. Chi consiglia la vaccinazione contro il vaiolo?

	1
--	---

19. Il predecessore dell'illuminismo, il filosofo inglese John Locke, è stato tra i primi a rimarcare la superiorità della ragione sulle altre forme di conoscenza. La sua filosofia ha avuto una grande impatto anche sull'epoca dell'illuminismo.

Immagine 4. Voltaire



Osserva attentamente l'immagine 4. Rispondi ai seguenti due esercizi.

19.1. Sulla linea vuota di sinistra scrivi il nome dell'opera che John Locke ha scritto nel 1689, mentre sulla linea di destra scrivi il nome e cognome completo di Voltaire.

	2
--	---

NOME DELL'OPERA DI JOHN LOCKE

VOLTAIRE

19.2. Come si chiama il romanzo che nel 1759., in stile umoristico, fu scritto dalla persona rappresentata nell'immagine 4.

	1
--	---

20. Tra le numerose e radicali riforme, Giuseppe II aveva concesso ai servi della gleba la libertà di spostamento, che ha portato ad una serie di conseguenze positive nella vita dei servi della gleba e per il loro libero trasferimento.

Immagine 5. Giuseppe II



Cerchia la lettera davanti a tre esatte conseguenze della Patente sulla libera circolazione.

A) I servi della gleba potevano mandare i figli a scuola.

3

B) I servi della gleba potevano contrarre il matrimonio con il benestare del feudatario.

C) Se i servi della gleba non avessero potuto pagare i tributi al feudatario, avrebbero avuto la possibilità di farsi diminuire la somma dei tributi.

D) I servi della gleba potevano scegliersi il mestiere.

E) Ai servi della gleba era stata abolita la decima alla Chiesa.

21. Nel XVIII secolo alcuni sovrani avevano accolto le idee illuministe, soprattutto quelle che portavano allo sviluppo economico del Paese e al miglioramento delle condizioni di vita dei sudditi. Maria Teresa e Giuseppe II hanno effettuato numerose riforme.

Nella tabella sottostante, sotto i nomi dei sovrani scrivi i concetti: mercantilismo, fisiocrazia, sviluppo dell'agricoltura, crescita del commercio marittimo e delle vie commerciali.

4

<u>MARIA TERESA</u>	<u>GIUSEPPE II</u>
1. _____	1. _____
2. _____	2. _____

Tabella 3.

22. Lo sviluppo economico dei territori croati era ostacolato dalla loro divisione. Gli Asburgo avevano iniziato ad investire nell'infrastruttura dei trasporti con la creazione di nuovi porti e con ampliamento di quelli esistenti, mentre allo stesso tempo venivano costruite strade per collegare l'entroterra con il litorale. Lo sviluppo dei trasporti aveva stimolato anche lo sviluppo economico di questi territori, governato dal Consiglio regio.

1

Cerchia la lettera davanti alla sequenza cronologica esatta.

A) Città di Fiume proclamata regio porto franco → fondato primo governo croato → incendio di Varaždin → abolito il Consiglio regio

B) incendio di Varaždin → abolito il Consiglio regio → fondato primo governo croato → Città di Fiume stata proclamata regio porto franco

C) Città di Fiume proclamata regio porto franco → fondato primo governo croato → abolito il Consiglio regio → incendio di Varaždin

D) fondato primo governo croato → incendio di Varaždin → Città di Fiume è proclamata regio porto franco → abolito il Consiglio regio

23. Con la salita al trono dei sovrani asburgici, Maria Teresa e Giuseppe II, è iniziata una serie di riforme con lo scopo di modernizzare e centralizzare l'amministrazione statale, e sviluppare la società civile. Tutta l'epoca è stata caratterizzata da cambiamenti amministrativi, militari, economici e sociali.

Con la lettera corrispondente, davanti alle risposte offerte, completa la sequenza cronologica esatta.



A) Patente di libera circolazione

B) introduzione della lingua tedesca

	2
--	---

24. Il pensatore politico più importante dell'illuminismo è stato Charles de Montesquieu, il quale ha elaborato la propria visione dello Stato ideale. Per avere un governo statale più corretto, aveva proposto la tripartizione dei poteri, legislativo, esecutivo e giudiziario.

Cerchia la lettera davanti a tre affermazioni esatte, che si riferiscono a Charles de Montesquieu e alla tripartizione del potere.

	3
--	---

A) Montesquieu è arrivato alla conclusione che la repubblica è un tipo di governo difficile da applicare, però perfetto.


B) Montesquieu ha elaborato la tripartizione dei poteri nel libro *Lo spirito dello Stato* del 1748.

C) Montesquieu riteneva che se il potere legislativo ed esecutivo fossero stati concentrati in una sola persona, si sarebbe corso il rischio di avere un monarca che emanasse leggi tiranniche.

D) La suddivisione tripartita dei poteri è stata per la prima volta applicata nella Dichiarazione dei diritti dell'uomo e del cittadino.

E) Montesquieu riteneva che non ci potesse essere libertà senza la separazione del potere giudiziario dal potere legislativo ed esecutivo.

25. La bandiera degli Stati Uniti d'America è in uso da 14 giugno 1777, quando è stata emanata la Risoluzione sulla bandiera ("The Flag Resolution"). La prima bandiera è conosciuta con il nome di "Betsy Ross", che sarebbe, secondo la tradizione, il nome della donna che l'aveva cucita. L'odierna bandiera è invece in uso dal 4 luglio 1960.



Competizioni di Storia – livello scolastico
anno scolastico 2023/2024
1ª categoria: VII (settima) classe
30 gennaio 2024

Immagine 6. Bandiera numero 1

Immagine 7. Bandiera numero 2

Osserva attentamente le immagini di cui sopra.

Rispondi alla seguente domanda.

25.1. Quanti anni sono trascorsi dall'introduzione della prima bandiera degli Stati Uniti d'America fino all'introduzione della bandiera odierna?

	1
--	----------